



KULLEĠĠ SAN NIKOLA
SKOLA MEDJA RABAT
EŻAMIJIET TA' NOFS IS-SENA
SENA SKOLASTIKA 2015 – 2016

Marka

It-tmien sena

L-Istorja Ġenerali

Hin: Siegħa u nofs

Isem: _____ Klassi: _____ Numru tar-registru: _____

A. Aqra din is-silta dwar l-Vikingi. Imla l-vojt bil-kliem hawn taħt:

(Kull kelma tista' tintuża darba biss)

(1 X 10 = 10 marki)

foresti	ġellieda	Kanada	Longship	baħħara
Knarr	Franza	xmajjar	muntanji	Norvegja

Il-Vikingi, nies mill-artijiet Skandinavi fosthom Danimarka, Żvezja u _____ kienu jgħixu go klima kiesħa u ħarxa. L-ambjent ta' madwarhom kien jinkludi bosta _____ u foresti izda l-art fertili għall-biedja ma kinitx biżżejjed. Għaldaqstant pruvaw jiksbu l-bżonnijiet tagħhom minn artijiet oħra.

Il-Vikingi għarfu jużaw ir-rizorsi li kellhom, mill-_____ kisbu sigar kbar u injam biex jibnu x-xwieni tagħhom. Bnew żewġ tipi ta' xwieni, il-_____, gifen twil, dejjaq u ħafif użat għall-ġlied u l-_____, gifen wiesa' u kbir biżżejjed biex jgorr il-merkanzija. Dawn ix-xwieni kellhom qiegħ baxx biex ikunu jistgħu jbaħħru fix-_____.

B'dawn ix-xwieni, il-Vikingi baħħru u attakkaw ix-xtut ta' artijiet oħra fosthom l-Iskozja, l-Ingilterra, Spanja u _____. Saru magħrufa bħala _____ fost l-aktar kiefra meta kienu jisirqu, joqtlu u jħallu ħerba fl-artijiet li jattakkaw. Kienu wkoll fost l-aqwa _____ ta' zmienhom, tant li waslu sax-xtut tal-art illum magħrufa bħala l-_____.

B. Hares lejn dawn is-sorsi dwar in-Normanni u wiegeb il-mistoqsijiet kif meħtieġ: (total 12-il marka)



1. Mis-sorsi sib u ikteb:

(1 X 4 = 4 marki)

Żewġ armi użati għall-attakk kontra l-għadu

Żewġ ogġetti użati għad-difiża tas-suldati

2. F'liema art kienu jgħixu n-Normanni fi Franza?

_____.(1)

3. Semmi żewġ modi kif in-Normanni nbidlu hekk kif tħalltu man-nies ta' Franza?

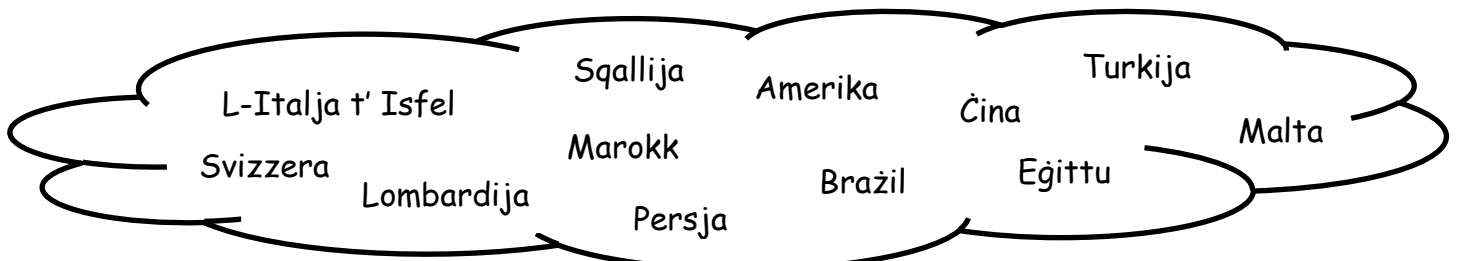
_____.(2)

4. Semmi ħila fil-glied li n-Normanni saħħu aktar ma bdew jithalltu man-nies ta' Franza:

_____.(2)

5. Aqta' linja taħt tliet artijiet mirbuħa min-Normanni:

(3)



C. Mill-informazzjoni li tiset mis-sors u minn dak li taf dwar is-suggett aħdem it-taħriġ hawn taħt kif mitlub. (total 10 marki)



Sors C



Sors D



Sors E



Sors F

1. Kontra liema armata ġġieldu s-soldati Normanni li jidhru f'dawn is-sorsi?

In-Normanni ġġieldu kontra l-armata _____ fil-battalja ta' Hastings. (2)

2. Xi tnejn / preparazzjoni saret qabel din il-battalja, min-naħa tan-Normanni? (Uża Sors C u Sors D bħala għajnuna)

_____. (2)

3. Liema minn dawn is-sorsi huwa **Sors Sekondarju**? Għaliex?

Sors għax _____ (2)

4. X'jismu l-fdal li minnu huma meħuda Sors C, Sors D u Sors E

_____. (2)

5. Għaliex dan il-fdal huwa tant importanti fl-istudju tal-Istorja tan-Normanni?

_____. (2)

'Il-Konti qabizlu d-dmugħ meta ra l-ilsiera Nsara ħerġin ferħanin mill-belt...L-ilsiera laqgħuh bi friegħi tal-palm f'idhom...u b'għajjat ta' *Kyrie Eleyson*, huma nxejt u fl-art quddiemu. Għalhekk il-Konti, wara li ħa pussess tal-belt, laqa' lill-ilsiera fuq ix-xwieni tiegħu. Ix-xwieni tant kienu mgħobbija li l-Konti beza' li jistgħu jegħrqu. Imma Alla kien magħhom, u x-xwieni ntrefgħu 'l fuq mill-mewġ. Fi triqtu lura, il-Konti lemaħ il-gżira ta' Għawdex. Għalhekk hu ordna li jsir ħbit fuq dik il-gżira wkoll. Malli nizlu l-art in-Normanni ħarbtu u serqu kemm felħu. Qabel telaq lura lejn Sqallija l-Konti ħa l-pussess tal-gżira ta' Għawdex u ziedha mal-artijiet tiegħu.'

Goffredu Malaterra, Segretarju tal-Konti

Sors G

1. X'jismu l-Konti li jissema' fis-silta ta' Sors G?

_____ (1)

2. Liema belt Maltija ħa l-pussess tagħha l-Konti fis-silta?

_____ (1)

3. Liema twemmin kien dominanti fil-gzejjer Maltin meta l-Konti wasal f'artna? Aqta' linja taħt it-twegiba t-tajba

(1)

Pagan

Nisrani

Musulman

Buddist

Gudajizmu

Ħindu

4. Għaliex taħseb li l-Konti talab li jinħelsu l-prigunieri u l-ilsiera Nsara mill-belt?

_____. (2)

5. Liema kliem mis-silta juru li Goffredo Malaterra qed jeżagera f'parti mir-rakkont tiegħu

_____. (2)

6. Għaliex il-Konti Normann kellu bżonn jaħkem il-gzejjer ta' Malta u Għawdex minkejja ċ-ċokon tagħhom?




_____. (3)

E. Ikteb x'inhuma il-fdalijiet murija hawn taħt billi tagħzel mill-kliem

mogħtija: Tlieta biss huma twegibiet tajba

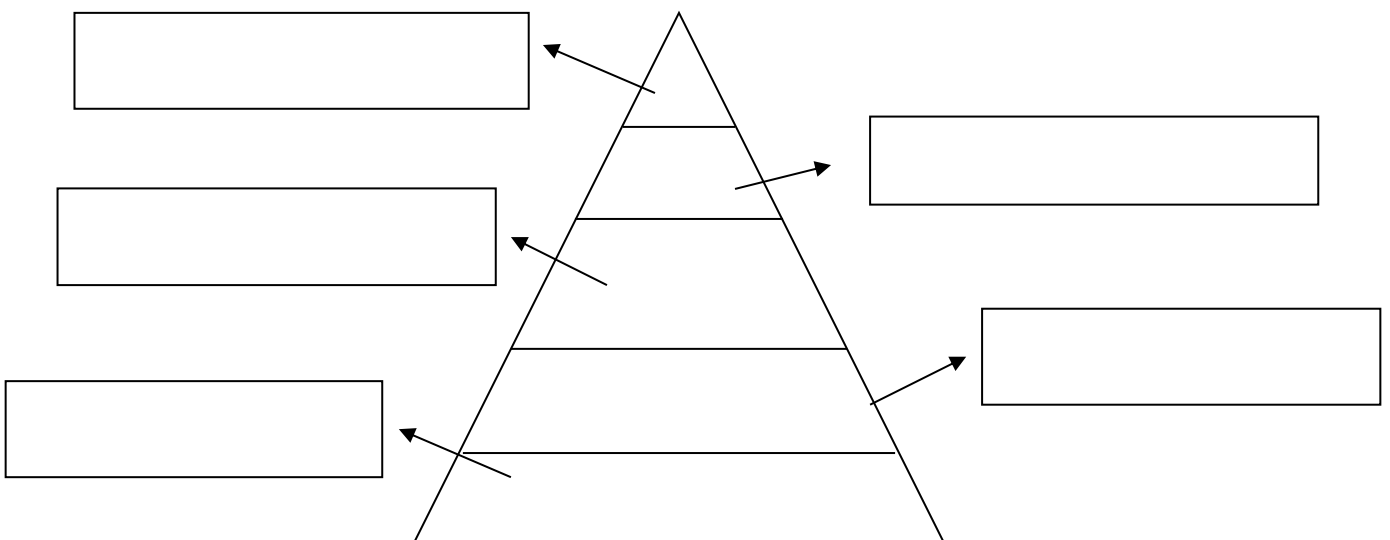
(2 X 3 = 6 marki)

Bini Sikulo-Normann fil-Imdina	Tinqix Għarbi misjub fil-Isla	Lapidi ta' Oqbra Musulmana Rabat
Lapidi Rumani misjuba fil-Belt Valletta	Il-Ġebbla ta' Majmuna misjuba f'Għawdex	Bini Neo-Klassiku fil-Birgu

		
1.	2.	3.

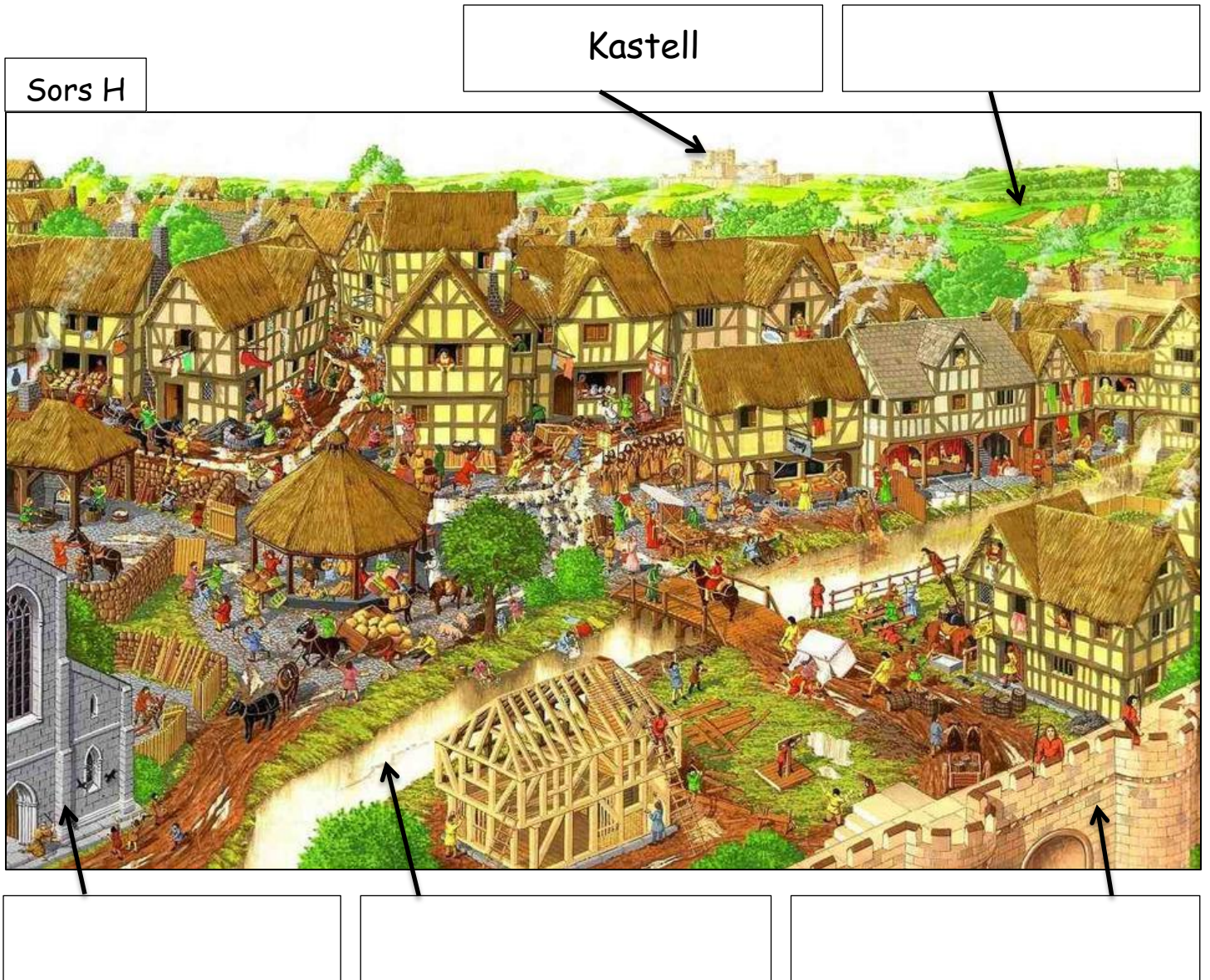
F. Minn dak li taf dwar is-Sistema Fwdali, imla l-vojt fit-trijangolu hawn taħt. Ibda bl-aktar persuna/i li kellhom poter fuq nett u spiċċa bl-aqas persuni li kellhom drittijiet fis-soċjetà Medjevali: (5 x 1 = 5 marki)

Is-Sistema Fwdali



Nobbli	Bdiewa Ħielsa	Re	Kavallieri	Skjavi
--------	---------------	----	------------	--------

Ġ. *Fares sew lejn dan is-sors. Minn dak li qed tara u minn dak li taf dwar is-Sistema Fewdali wiegeb id-domandi. Fejn tħoss il-bżonn agħti eżempji ċari biex issaħħaħ ir-risposti tiegħek:* (total 17-il marka)



1. Imla l-kaxxi vojta b'dak li qed tara f' Sors H, l-ewwel waħda mogħtija bħala eżempju. (4 x 1 = 4 marki)

2. Aqta' linja taħt l-aħjar twegiba: (5 x 1 = 5 marki)

- i. Medda ta' art kbira bil-bini u n-nies li jgħixu fiha kienet tissejjaħ (tomna art, fewdu, qbiela, zona agrikola).
- ii. Il-ħajja fis-Sistema Fewdali kienet marbuta (mat-turiżmu, mal-biedja, mal-industrija mekkanika, mat-tfittxija taż-żejt).

- iii. Meta r-re kien jagħti medda ta' art lil-sid fewdatarju dan kellu (jaħdem l-għelieqi , ibiegħ l-ħxejjex , iwiegħed lealtà lir-re , ikeċċi l-iskjavi fl-art tiegħu).
- iv. Il-Kavallieri kellhom iżommu l-ordni fuq l-art tas-sid, iżda kienu ukoll (jiggieldu favur ir-re fil-gwerer, jaħdmu fil-fabbriki , jkabbru ż-żwiemel , jaħdmu l-armi).
- v. F'din is-sistema s-servi kienu marbuta (mas-sid fewdatarju , mal-kastell fejn jgħixu , mal-art u l-għelieqi li kienu jaħdmu , max-xwieni li fuqhom kienu jbaħħru).

3. Wiegeb u agħti eżempji fejn meħtieġ:

- i. L-ewwel kastelli u fortifikazzjonijiet Medjevali kienu mibnija bl-injam (mhux bħal ta' Sors H). Xi żvantagġ kellu dan il-materjal speċjalment waqt assedju?

_____ . (1)

- ii. Bosta kastelli fi Żmien Nofsani kienu jinbnew qrib xi xmara. X'vantagġi u kumditajiet kien igib dan?

_____ . (2)

- iii. Għaliex il-kastelli Medjevali kienu mibnija f'post għoli?

_____ . (2)

- iv. Immagina li int trid tattakka kastell Medjevali. Ikteb kif tagħmel assedju iżda dejjem zomm f'moħħok l-armi li kienu jintużaw f'dak iż-żmien:

_____ . (3)

H. Qabbel iż-żewġ kolonni billi tikteb in-numru t-tajjeb fejn meħtieġ.

(5 X 2 = 10 marki)

1	Kaptan tal-Port		Raġel li jgassam l-artijiet u l-għelieqi bi qbiela (ftehim) lin-nies biex dawn jintużaw għall-biedja
2	Kastellan		Persuna li tiġbor it-taxxi mill-poplu mirbuħ biex dawn jingħataw lin-Normanni
3	Duwan		Il-persuna li kienet tieħu ħsieb il-gustizzja fil-gżejjer Maltin
4	Bajulaċċju		Raġel li kien jmexxi id-dħul u l-ħruġ tax-xwieni militari jew merkantili fil-portijiet ta' gżiritna
5	Kaptan tal-Ħaqq		Il-persuna li kienet tieħu ħsieb il-kastell tal-Birgu madwar is-sena 1242 W.K.

I. Aghżel titlu wieħed biss u ikteb madwar mitt kelma dwaru. Aghți eżempji ċari biex issaħħaħ il-kitba tiegħek. (20 marka)

1. Qabbel il-ħajja Medjevali ma' dik li qed ngħixu aħna llum. Ikteb dwar id-differenzi kbar li hemm fit-teknoloġija, fil-bini, fix-xogħol u fil-mod kif il-bniedem jgħix. Tista' issemmi xi vantaġġi u żvantaġġi li nsibu fiż-żewġ żminijiet.
2. *Il-Kruċjati ħallew eluf ta' suldati u nies mejta fuq medda ta' mitejn sena. Dawn il-gwerer kienu marbuta kemm mal-poter kif ukoll mat-twemmin.* Ikkummenta, filwaqt li tirrakkonta dak kollu li taf dwar il-Kruċjati. Kliem li jista' jgħinek fil-kitba huma: Art Mqaddsa, qawwiet Insara / Musulmana, pellegrini u Kavallieri.
3. Ikteb dak kollu li taf dwar il-Pesta s-Sewda, il-kawżi u l-konsegwenzi tagħha filwaqt li tiddekrivi kif in-nies ta' dak iż-żmien pruvaw jeħilsu minn din il-marda qerrieda.

Nota: Importanti li tikteb it-titlu li għażilt fuq il-karta mogħtija lilek kif ukoll l-isem, il-kunjom u l-klassi tiegħek. Kif tlesti mill-eżami daħħal il-karta fejn ktibt dwar dan it-titlu fin-nofs (wara paġna 4) biex ma tintilifx waqt il-gbir tal-karti.